

۱-  $(3 \times 7) + (3 \times 5) = ?$

۲- بزرگ ترین عدد ۴ رقمی که با کارت های ۶ و ۴ و ۸ و ۰ می توانی بسازی چند است؟

۳- برای ساخت ۵۰۰۰ خانه، چند آپارتمان ۵۰ واحدی باید بسازیم؟

۴- ۸ متر و ۲۰ سانتی متر و ۲ میلی متر چند میلی متر است؟

۵- سارا ۱۰۰ سکه ی ۵۰ ریالی دارد، او چند ریال دارد؟

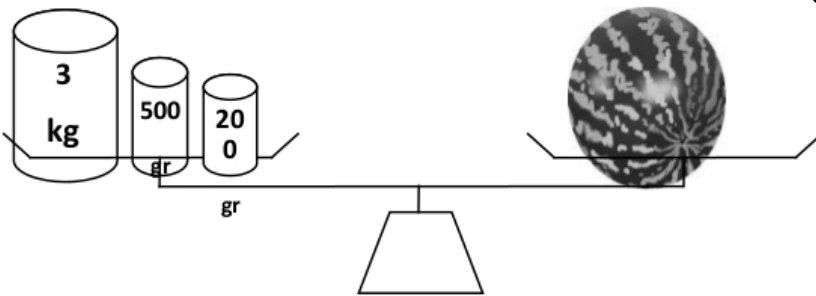
۶- هر دست لیوان ۶ عدد است. ۱۱ دست لیوان چند عدد لیوان است؟

۷- خارج قسمت تقسیم هر عدد بر خودش ..... می شود.

۸- ۳ متر برابر است با ..... میلی متر.

۹- سارا ۷۲ سانتی متر روبان دارد که می خواهد دور یک مقوای مربع شکل بدوزد. روبان را باید به فاصله های چند سانتی متری ببرد؟

۱۰- با توجه به شکل زیر جرم هندوانه چند گرم است؟

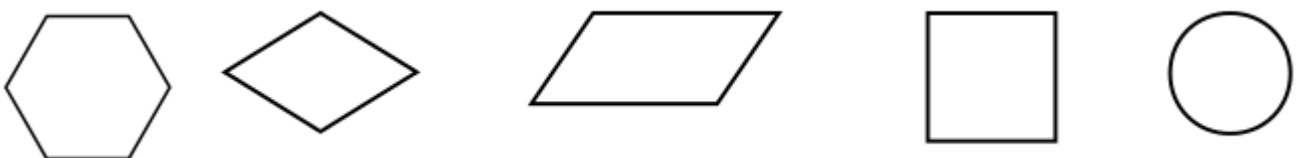


۱۱- ۹۴۸۶ گرم = ..... کیلوگرم و ..... گرم

۱۲- کدام یک از کسرهای زیر مساوی یک واحد است؟

- (الف)  $\frac{2}{5}$       (ب)  $\frac{1}{4}$       (پ)  $\frac{15}{15}$       (ت)  $\frac{1}{2}$

۱۳- کدام شکل بیشترین خط تقارن را دارد و چند خط؟



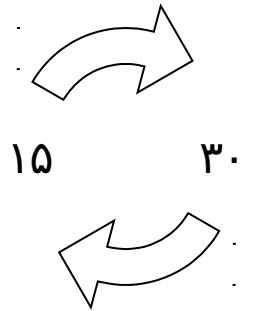
۱۴- ۳۰۰ تومان با ارزش تر است یا ۲۹۸۷ ریال؟

۱۵- من عددی چهار رقمی هستم که یکانم کوچکترین عدد فرد و صدگانم بزرگترین عدد زوج و دهگانم ۳ و هزارگانم ۵ تا از دهگانم بیشتر است. من چه عددی هستم؟

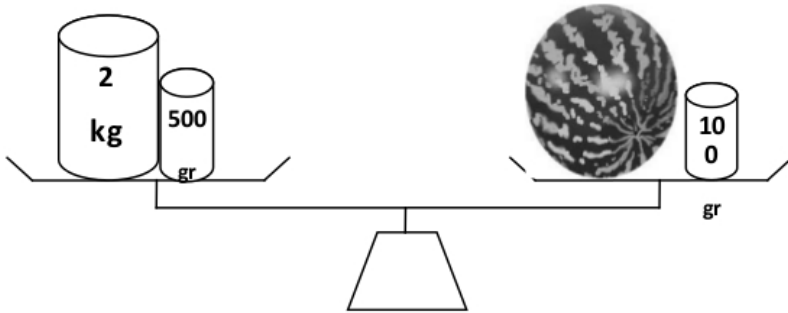
۱۶- فروشنده ای هر مداد را ۲۰ تومان می خرد و ۲۸ تومان می فروشد.

او با فروختن چند مداد ۶۴ تومان سود می کند؟

۱۷- فلش زیر مانند یک ماشین ورودی-خروجی است. می توانی بگویی فلش زیر چه عملیاتی انجام می دهد؟



۱۸- با توجه به شکل زیر جرم هندوانه چند گرم است؟



۱۹- برای شکل، دو کسر مساوی بگویند.

