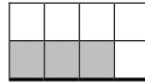
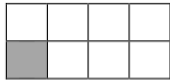


۱- الگوی زیر را ادامه دهید:



.....

۲- الگوی زیر را ادامه دهید:

..... و ۲۸ و ۲۶ و ۲۴ و ۲۲

۳- الگوی زیر را ادامه دهید:

..... و ۷۷۱ و ۷۶۹ و ۷۶۷ و ۷۶۵

۴- پاسخ جمع زیر را بنویسید:

$$\begin{array}{r} 635 \\ + 162 \\ \hline \end{array}$$

۵- پاسخ جمع زیر را بنویسید:

$$\begin{array}{r} 723 \\ + 165 \\ \hline \end{array}$$

۶- پاسخ تفریق زیر را بنویسید:

$$\begin{array}{r} 841 \\ - 130 \\ \hline \end{array}$$

۷- پاسخ تفریق زیر را بنویسید:

۳۵۲

- ۲۶۳

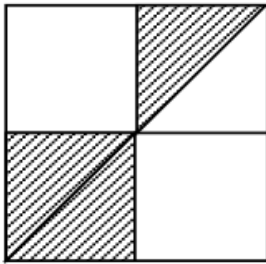
۸- عبارت زیر را کامل کنید:

۴۳۵۱ متر = کیلومتر و متر

۹- عبارت زیر را کامل کنید:

۷ کیلومتر و ۲۱ متر = متر

۱۰- چه کسری از شکل زیر رنگ شده است؟



۱۱- سارا یک پارچ آب را با ۶ لیوان آب پر کرد. گنجایش لیوان چه کسری از پارچ است؟

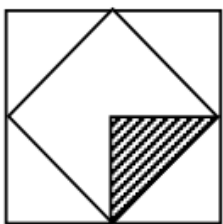
(ت) $\frac{۳}{۶}$

(پ) $\frac{۲}{۶}$

(ب) $\frac{۱}{۶}$

(الف) $\frac{۱}{۵}$

۱۲- چه کسری از شکل زیر رنگ شده است؟



(د) $\frac{۱}{۸}$

(ج) $\frac{۱}{۶}$

(ب) $\frac{۱}{۴}$

(الف) $\frac{۱}{۵}$

۱۳- ضرب مربوط به محور زیر را بنویسید:



۱۴- ۷ خوشه موز داریم. در هر خوشه ۶ موز است. چند موز داریم؟

۱۵- آتنا ۷۲ آبنبات را بین خود و ۸ دوستش تقسیم کرد، به هر نفر چند آبنبات می‌رسد؟

۱۶- ساغر ۸ کتاب دارد و ساناز ۵ برابر او کتاب دارد. آن‌ها روی هم چند کتاب دارند؟

۱۷- اندازه‌ی هر ضلع یک باغچه‌ی مربع شکل، ۸۰ سانتی‌متر است. اگر بخواهیم دور این باغچه حصار

بکشیم، چند متر و چند سانتی‌متر حصار نیاز است؟

۱۸- طول مستطیلی ۸ سانتی‌متر است، اگر طول مستطیل ۲ برابر عرض آن باشد. محیط مستطیل چند

سانتی‌متر است؟

۱۹- با یک سیم فلزی ۱۶ سانتی‌متری یک لوزی ساخته ایم. محیط و اندازه ضلع این لوزی چقدر است؟

۲۰- عرض استخری ۳ متر و طول آن ۳ برابر عرض آن است. برای کاشی کردن کف استخر به چند متر

مربع کاشی نیاز هست؟